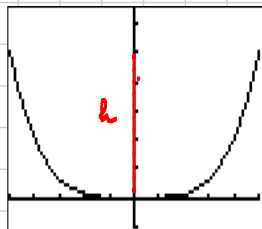


Musterlösung 2015 Aufgabe 1

$$f(x) = \frac{1}{125} x^4 \quad -5 \leq x \leq 5$$

a) Tiefe des Laderaums



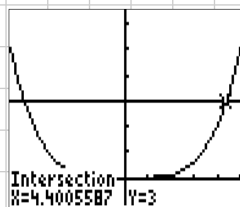
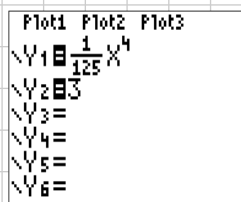
$$f(0) = 0$$

$$f(5) = 5$$

Höhe des Laderaums: 5m

Breite des Laderaums in 3m Höhe

Ansatz:



$$f(x) = 3 \quad \text{GTR} \quad x_1 \approx 4,40$$

$$x_2 \approx -4,40$$

Die Breite des Laderaums in 3m Höhe beträgt ca 8,80 m.

Neigung unter 5%

Ansatz:

$$f'(x) \leq 0,05 \quad \text{GTR} \quad x \approx 1,16$$

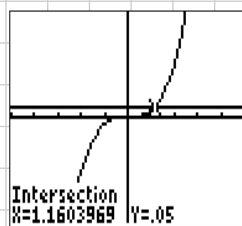
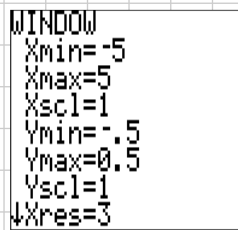
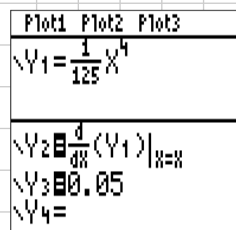
Aus Symmetriegründen:

1,16m links und rechts

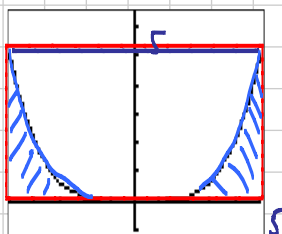
der tiefsten Stelle hat

der Boden eine Neigung

unter 5%



Volumen des Laderaums:



$$V = G \cdot 50 \text{ m}$$

$$G = A_{\text{rect}} - A_{\text{curve}} = 10 \cdot 5 - \int_{-5}^5 f(x) dx = 40$$

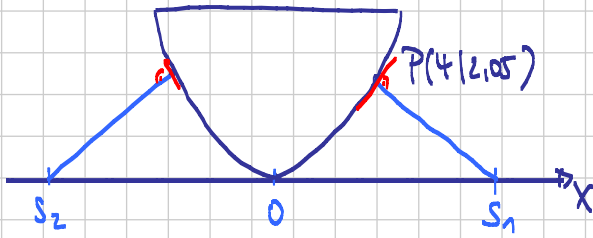
$$V = 40 \text{ m}^2 \cdot 50 \text{ m} = 2000 \text{ m}^3$$



Das Volumen beträgt 2000 m³.

b) Abstand zwischen den Stützen

Skizze



Gesucht ist zunächst der Schnittpunkt der Normalen durch $P(4|2,05)$

1) $f(4) \approx 2,05$ $f'(4) \approx 2,05$ Es gilt: $m_t \cdot m_n = -1$
 $P(4|2,05)$ $m_t = 2,05$ $2,05 \cdot m_n = -1 \rightarrow m_n = -\frac{1}{2,05} = -0,49$

2) Gleichung der Normalen: $m: y = m_n \cdot x + c$
 $\left. \begin{array}{l} P(4|2,05) \\ m_n = -0,49 \end{array} \right\} 2,05 = -0,49 \cdot 4 + c \rightarrow c = 4,00$

Ergebnis: $m: y = -0,49x + 4,00$

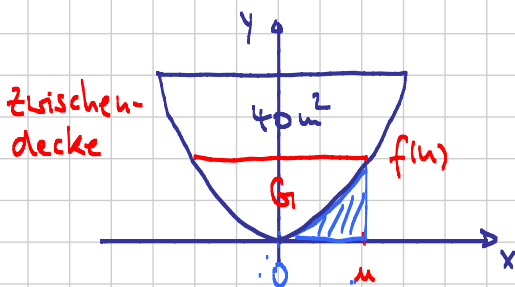
3) Schnittstelle der Normalen mit der x-Achse

$m: y = -0,49x + 4,00 = 0 \rightarrow x \approx 8,19$

Aus Symmetriegründen gilt:

Der Abstand der beiden Stützen beträgt ca. 16,4 m.

c) Breite der Zwischendecke



$V_{\text{Unter}} = 500 \text{ m}^3 = G \cdot 50 \text{ m}$

$\Rightarrow G = 10 \text{ m}^2$

D.h. $2 \cdot (u \cdot f(u) - \int_0^u f(x) dx) = 10$ $\text{GTR } x = 3,73$

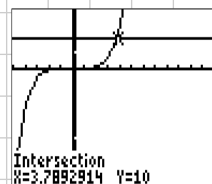
Eingabe GTR

$y_1 = \frac{1}{125} x^4$

$y_2 = 2 \cdot (x \cdot y_1 - \int_0^x y_1 dx)$

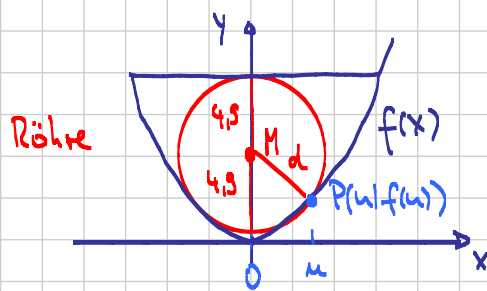
$y_3 = 10$

↙ y_1 Int



Symmetrie:
Die Breite der Zwischendecke beträgt ca. 7,6 m.

Röhre mit Außendurchmesser 9,8 m



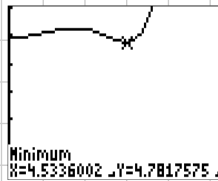
$$GTR: |y_2 = \sqrt{x^2 + (f(x) - 4,9)^2}$$

1) $M(0|4,9)$; $P(u|f(u))$

Abstandsproblem
(zwischen zwei Punkten)

2) $d(M;P) = \sqrt{(u-0)^2 + (f(u)-4,9)^2}$

3) GTR $x_{\min} = 4,78 < 4,9$



Die Röhre lässt sich somit nicht bis zur tiefsten Stelle absenken.